

1. Tarih bilimi zaman içerisinde farklı şekillerde anlamlandırılarak insanlara sunulmuştur. Bu anlamlandırma yapılırken bazı unsurlar hiçbir zaman değişmemiştir.

Buna göre tarihin tanımı yapılırken üzerinde durulması gereken unsurlar arasında aşağıdakilerden hangisi gösterilemez?

- A) Yer-zaman
B) Neden-sonuç
C) Objektif olma
D) Gözlem yapma
E) Belgelere dayanma

2. Moğolistan'ın HÖŞÖÖ Tsaydam Müzesi'ndeki Kültigin Yazıtı'nı okuyup anlamlandırmak için;

- I. epigrafya,
II. filoloji,
III. paleografya

bilimlerinden hangileriyle ilişki içerisinde olunmalıdır?

- A) Yalnız I
B) Yalnız II
C) I ve II
D) II ve III
E) I, II ve III

3. Miladi takvim ile ilgili aşağıdaki bilgilerden hangisinin doğru olduğu söylenemez?

- A) Güneş yılına göre düzenlenmiştir.
B) Yazının icadı milat olarak kabul edilir.
C) Kökeni Mısırlılara dayanmaktadır.
D) Papa XIII. Gregorius son şeklini vermiştir.
E) Dünyada en yaygın olarak kullanılan takvimdir.

4. Tarih öğrenmenin insana sağladığı faydalar arasında aşağıdakilerden hangisi gösterilemez?

- A) Empati kurma
B) Geleceği yorumlama
C) İnsan ilişkilerini anlama
D) Millî bilinç oluşturma
E) Bireyi tanıma

5. Tarihi araştırma yaparken objektifliği sağlamak için;

- I. birçok kaynağı incelemek,
II. geçmişin değer yargılarını göz önünde bulundurmak,
III. din, ulus unsurlarını ön planda tutmak

yöntemlerinden hangilerine başvurması bir zorunluluktur?

- A) Yalnız I
B) Yalnız II
C) Yalnız III
D) I ve II
E) I, II ve III

6. • Bir yıl 354 gündür.
• Başlangıç yılı, Hz. Muhammed'in Mekke'den Medine'ye hicret yılıdır.
• Dinî gün ve gecelerin belirlenmesinde bu takvimler faydalanılır.

Bu özellikler aşağıdaki takvimlerden hangisine aittir?

- A) Miladi
B) Rumi
C) Hicri
D) 12 Hayvanlı
E) Celali

7. **Tanım**

Tarih, geçmişteki insan toplumlarının yaşayışlarını birbirleriyle olan ilişkilerini yer ve zaman göstererek belgelere dayalı olarak inceleyen sosyal bir bilimdir.

Durum

İslam Tarihi Ansiklopedisi'nde Uhud Savaşı ile ilgili şu bilgilere yer verilir: Uhud Dağı'nın eteklerinde gerçekleşen Uhud Savaşı'nda okçuların yerlerini terk etmelerine bağlı olarak İslam ordusu yenilmiştir. Ancak müşrikler Müslümanları tamamen yok edemediği için Hendek Savaşı yaşanmıştır.

Yukarıda verilen durumda, tarihin tanımında yer alan unsurlardan hangisine yer verilmemiştir?

- A) Belge
B) Yer
C) Zaman
D) Sebep-sonuç
E) Geçmişin bilgisi


8. Halil İnalıcık, tarih bilimi ile ilgili görüşlerini şu şekilde dile getirmiştir:

“Gerçek bir tarih için kaynaklara gitmek, kaynakları iyi tenkit edip değerlendirmek gerekir.”


Halil İnalıcık'ın bu sözlerinde geçen “tenkit” kelimesinin aşağıdaki bilimlerden hangisiyle bir ilişkisinden söz edilebilir?

- A) Coğrafya
B) Epigrafi
C) Paleografya
D) Felsefe
E) Sosyoloji

9. I.



- III.



Bu görseller ilgili oldukları alanlara göre sınıflandırıldığında hangisi dışta kalır?

- A) Yalnız I
B) I ve II
C) I ve III
D) Yalnız IV
E) I ve IV

- 10.



Lidya parası

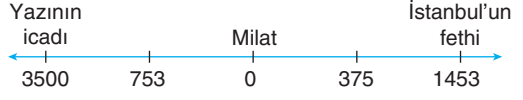


Abbasi parası

Bu görseller aşağıdaki tarihe yardımcı bilimlerden hangisiyle ilişkilendirilebilir?

- A) Epigrafi
B) Heraldik
C) Nüsmatik
D) Felsefe
E) Karbon 14

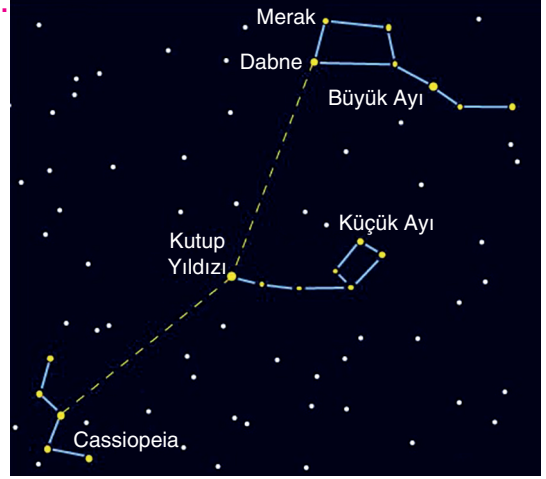
- 11.



Bu tarih şeridini tahtaya yansıtan Berna Öğretmen'in işleyeceği yardımcı bilim aşağıdakilerden hangisidir?

- A) Filoloji
B) Nüsmatik
C) Kronoloji
D) Edebiyat
E) Coğrafya

- 12.



Dersinde öğrencileri ile bu görseli paylaşan Pelin Öğretmen'in, ilk uygarlıkların aşağıdaki faaliyetlerinden hangisini işlemesi beklenir?

- A) Takvim çalışmaları
B) Mühür incelemeleri
C) Tercüme faaliyetleri
D) Hukuk alanındaki çalışmaları
E) Ekonomik uğraşları

13. Aşağıda verilen “Gelişme–Alan” eşleştirmelerinden hangisi yanlıştır?

- A) Cumhuriyetin ilanı – Siyasi
B) İslamiyet'in doğuşu – Ticari
C) Malazgirt Savaşı – Askerî
D) Orta Asya Türk Göçleri – Sosyal
E) Sanayi Devrimi – Ekonomik

1. Sahip oldukları geniş toprakları satraplık denilen eyalet sistemiyle yönetmişlerdir. Ayrıca gelişmiş bir posta teşkilatı kuran ---- Sus'tan başlayıp Sardes'e kadar uzanan Kral Yolu'nu yapmışlardır.

Bu parçada boş bırakılan yere aşağıdaki uygarlıklarından hangisi yazılmalıdır?

- A) Lidyalılar
B) Persler
C) Asurlar
D) Elamlar
E) Fenikeliler

2. Anadolu ve çevresinde yaptığı geziler sonucunda on yedi bölümden oluşan "Coğrafya" isimli eseri yazan ünlü İlk Çağ bilim insanı aşağıdakilerden hangisidir?

- A) Strabon
B) Arşimet
C) Heredit
D) Tales
E) Pisagor

3. I. Ateşin kontrol altına alınması
II. Topraktan çanak çömlek yapılması
III. Anadolu'nun yazı ile tanışması tarihi dönemlerin başlaması

Bu gelişmelerin Eski Taş, Yeni Taş ve Tunç çağlarıyla ilişkisi aşağıdakilerden hangisinde doğru olarak sıralanmıştır?

	Eski Taş	Yeni Taş	Tunç
A)	I	II	III
B)	II	I	III
C)	III	II	I
D)	I	III	II
E)	II	III	I

4. Aşağıdaki İlk Çağ uygarlıklarından hangisi diğerlerinden daha farklı bir coğrafyada siyasi varlığını devam ettirmiştir?

- A) Asurlar
B) Sümerler
C) Elamlar
D) İyonlar
E) Babiller

5. Tarihin ilk yazılı barışı olan Kadeş Barışı ile aşağıdaki hangi iki ülke arasındaki sorunlar çözüme kavuşmuştur?

- A) Asur – Babil
B) Elam – Sümer
C) Hitit – Mısır
D) Roma – Fenike
E) Lidya – İyon

6. • Günümüzde keşfedilen en erken tarihli dinî mimari eserleri kapsamaktadır.
• İnsanoğlunun, tarım ve yerleşik hayattan sonra tapınaklar yaptığı şeklindeki yaygın görüş bölgenin keşfiyle tartışmaya açılmıştır.

Bu ifadelerde özellikleri verilen Anadolu'daki yerleşim alanı aşağıdakilerden hangisidir?

- A) Göbeklitepe
B) Çayönü
C) Çatalhöyük
D) Yarımburgaz
E) Alacahöyük

7.



Bir bölgede yapılan kazı faaliyetleri sonucunda görseldeki pişmiş kilden bir vazanın bulunmasından hareketle o bölge insanları ile ilgili olarak aşağıdaki yargılardan hangisine ulaşılabilir?

- A) Madeni işlemişlerdir.
- B) Üretim faaliyetlerinde bulunmuşlardır.
- C) Savaşçı özelliğe sahiptirler.
- D) Yazılı ürünler oluşturmuşlardır.
- E) Başka bir kültürün etkisinde kalmışlardır.

8.



İlk dönem insanlarına ait bu görselden bölge insanı ile ilgili olarak aşağıdaki çıkarımlardan hangisine ulaşılamaz?

- A) Sabit bir yerleşim yerleri vardır.
- B) Tarımsal faaliyetlerle ilgilenmişlerdir.
- C) Üretici özellikleri vardır.
- D) Sabit bir yaşam alanları yoktur.
- E) Korunmaya önem vermişlerdir.

9. Antalya Öküzini'nde yapılan araştırmalar sonucunda bölge halkının avcılık-toplayıcılık faaliyetleri ile yaşamını sürdürdüğü, ok ve yayı kullandıkları bilgisine ulaşılmıştır.

Bu bilgilerden bölge halkı ile ilgili olarak;

- I. savaşçı olduklarına,
 - II. doğaya bağımlı yaşadıklarına,
 - III. ateşi, üretim aşamasında kullandıklarına
- yargılarından hangilerine ulaşılabilir?**

- A) Yalnız I
- B) Yalnız III
- C) I ve II
- D) I ve III
- E) II ve III

TÜMLER YAYINLARI

10. C. J. Thomsen 1836 yılında ilk defa üç çağ sistemini kurmuş böylece taş, tunç, demir sıralaması günümüze kadar tarih öncesi arkeolojinin kronolojik sıralamasını oluşturmuştur. 1865 yılında J. Lubbock üç çağ sistemini ayrıntılı bir şekilde yeniden ele almıştır.

Buna göre J. Lubbock'ın ayrıntılı sınıflandırmasında;

- I. Paleolitik,
- II. Neolitik,
- III. Demir

çağlarından hangilerinin yer alması beklenir?

- A) Yalnız I
- B) Yalnız II
- C) I ve II
- D) II ve III
- E) I, II ve III

1. Aynı atadan gelen ve birbirine kan bağıyla bağlı büyük insan topluluğuna verilen isim aşağıdakilerden hangisidir?

- A) Federasyon
B) Teokrasi
C) Kabile
D) İmparatorluk
E) Ziggurat

2. I. Hammurabi
II. Urgakina
III. Cengiz Han

Yukarıdakilerden hangileri İlk Çağ'ın kanun koyucuları arasında gösterilebilir?

- A) Yalnız I
B) Yalnız II
C) Yalnız III
D) I ve II
E) I, II ve III

3. İlk Çağ'ın tüccar kavimleri arasında;

- I. Fenikeliler,
II. Asurlar,
III. Lidyalılar

uygarlıklarından hangileri yer alır?

- A) Yalnız I
B) Yalnız II
C) Yalnız III
D) I ve III
E) I, II ve III

4.



Bu haritadan Roma İmparatorluğu ile ilgili olarak,

- I. Farklı kıtalarda varlık göstermiştir.
II. Yönetici liderler, güçlerini dine dayandırmıştır.
III. Tüm Akdeniz havzasına hâkim olmuştur.

yargılarından hangilerine ulaşılabilir?

- A) Yalnız I
B) Yalnız III
C) I ve II
D) I ve III
E) II ve III

TÜMLER YAYINLARI

5.



Mısırlılara ait bu duvar resminden hareketle bu uygarlıkla ilgili olarak aşağıdaki yargılardan hangisine ulaşamaz?

- A) Hayvanları evcilleştirdikleri
B) Savaşçı özelliklerinin olduğu
C) Ulaşımı kolaylaştırdıkları
D) Yerleşik yaşama geçtikleri
E) Hukuk alanında çalışmalar yaptıkları

6.



Bu heykelden Sümerlerle ilgili olarak,

- I. Üretim alanında faaliyetlerde bulunmuşlardır.
- II. Sanatsal çalışmalar yapmışlardır.
- III. Yerleşik yaşam tarzı benimsemişlerdir.

yargılarından hangilerine ulaşılabilir?

- A) Yalnız II B) Yalnız III C) I ve II
D) II ve III E) I, II ve III

7. Aşağıda Hitit Kanunları'ndan bazı maddeler verilmiştir;

- Başkasının tarlasını yakan bir kimse yakalanırsa tarlası yanan kişiye köle olarak verilir.
- Bir kişi kralın hükmüne karşı gelirse onun evi harap edilir.

Bu maddelerden Hititlerle ilgili olarak aşağıdaki yargılardan hangisine ulaşamaz?

- A) Yerleşik yaşam tarzına sahiplerdir.
B) Toplumda sınıf farklılıkları vardır.
C) Monarşik yönetim anlayışını benimsemişlerdir.
D) Üretim faaliyetlerinde bulunmuşlardır.
E) Anadolu'da ilk kanunları oluşturmuşlardır.

8.



Bu görselden Nil Nehri çevresinde;

- I. tarım,
- II. ticaret,
- III. hayvancılık

ekonomik faaliyetlerinden hangilerinin daha fazla gelişme göstermesi beklenir?

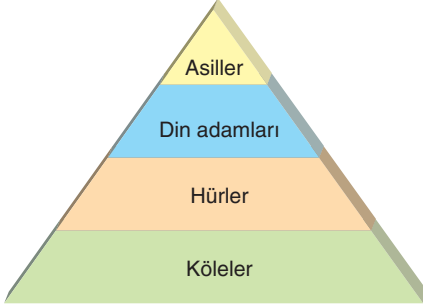
- A) Yalnız I B) Yalnız II C) Yalnız III
D) I ve II E) II ve III

9. Eski Ahit, Hz. Musa'dan yüzlerce yıl sonra kaleme alınmış olup günümüzde farklı nüshaları vardır. On Emir, Eski Ahit'in ilk ve en önemli kısmı ...?.. geçmektedir.

Bu parçada "?" ile gösterilen yere aşağıdakilerden hangisi yazılmalıdır?

- A) Kur'an-ı Kerim'de B) Tevrat'ta
C) İncil'de D) Zebur'da
E) Kadeş'te

1. Aşağıda İlk Çağ toplumlarında görülen toplum yapısı verilmiştir.



Buna göre İlk Çağ uygarlıkları ile ilgili olarak;

- I. eşitlik anlayışına aykırı bir yapıya sahip oldukları,
- II. adil uygulamalardan uzak bir yönetim anlayışı benimsedikleri,
- III. kişi haklarının gözardı edildiği,
- IV. toplum üyelerinin ihtiyaçlarının giderildiği

çıkarımlarından hangilerine ulaşamaz?

- A) Yalnız II B) Yalnız III C) Yalnız IV
D) I ve III E) II ve IV

2.

TİCARİ MEKÂNLAR
Arasta
Kapan
??
Liman
Pazar

Bu tabloda “?” ile belirtilen yere aşağıdakilerden hangisi yazılamaz?

- A) Bedesten B) Saray C) Han
D) Panayır E) Ribat

3. Kavimler Göçü'nün ardından Avrupa'da ortaya çıkan feodal rejim ile toplum içindeki sınıflı yapı daha da derinleşmiştir.

Buna göre aşağıdakilerden hangisi Avrupa'daki sınıflardan biri değildir?

- A) Vassal B) Süzeren C) Senyör
D) Lord E) Patesi

4. Orta Çağ Avrupa'sında yaşanan gelişmeler arasında aşağıdakilerden hangisi gösterilemez?

- A) Büyük vebanın yaşanması
B) Feodal rejimin kurulması
C) Haçlı Seferleri'nin yapılması
D) Magna Charta'nın imzalanması
E) Reform Hareketlerinin gerçekleşmesi

5. Moğol ordusu hafif süvari birliklerinden oluşmuştur.

Askerî teşkilatla ilgili bu oluşumun;

- I. ordunun hareket kabiliyetini,
- II. ordunun sevk ve idaresini,
- III. ordunun ücretli askerlerden oluşmasını

durumlarından hangilerini kolaylaştırdığı söylenebilir?

- A) Yalnız II B) Yalnız III C) I ve II
D) I ve III E) II ve III

6. İlk Çağ'da tarımsal faaliyetlerle elde edilen artı ürünler, bir merkezde toplanmış ve halka bu merkezlerden dağıtılmıştır.

Aşağıdakilerden hangisi bu durumun sonuçları arasında yer alır?

- A) Toplumsal alanda tabakalaşmanın ortaya çıkması
B) Ticari faaliyetlerin artması
C) Tek kişilik yönetim anlayışının benimsenmesi
D) Özel mülkiyet anlayışının ortaya çıkması
E) İlk yazılı hukuk kurallarının oluşturulması

7. Kast sisteminde,

- Meslekler babadan oğula geçmiştir.
- Her üye, doğduğu kast içinde yaşamını sürdürmüştür. Kast dışı ilişki kurmak yasaklanmıştır.

Buna göre kast sisteminin Hindistan'da aşağıdakilerden hangisini engellediği söylenemez?

- A) Toplumsal kaynaşmayı
B) Millet olma bilincini
C) Hukuk devleti anlayışını
D) Eşitlik ilkesinin uygulanmasını
E) Birlik ve beraberliğin sağlanmasını

8. Mısır'da tüm topraklar Firavun'un malı sayılmıştır.

Bu durumu;

- I. toprağı kullanan köylülerin kiracı konumunda olması,
II. ahiret inancının benimsenmesi,
III. tapınakların, kendilerine ait topraklarının olması

uygulamalarından hangileri kanıtlar niteliktedir?

- A) Yalnız I B) Yalnız III C) I ve III
D) II ve III E) I, II ve III

- 9.



Bu haritada aşağıdaki ticaret yollarından hangisi gösterilmiştir?

- A) İpek Yolu B) Kral Yolu
C) Kürk Yolu D) Baharat Yolu
E) Tuz Yolu

10. İlk Türk-İslam devletlerinden Karahanlılar ve Gaznelilerin hızlı yükselişinin nedenlerinden biri de İpek Yolu'nun kilit noktaları olan bazı şehirleri ticari merkez olarak kullanmalarındır.

Bu bilgide Karahanlılar ve Gaznelilerin yükselişinin aşağıdaki alanlardan hangisiyle olan ilişkisine değinilmiştir?

- A) Hukuk B) Sanat C) Ekonomi
D) Askeri E) Siyasi

11. Sasani İmparatorluğu; doğuda Orta Asya, batıda Suriye ve Anadolu yönünde gelişmiştir.

Buna göre Anadolu yönünde ilerleyen Sasani İmparatorluğu'nun, aşağıdakilerden hangisiyle mücadele içinde olması beklenir?

- A) Hazarlar B) Moğollar C) Bizans
D) Franklar E) Berberiler

1. 1000'li yıllarda Bizans İmparatorluğu'nun ordusunda görev yapan ücretli askerlerin büyük bir kısmı Türklerden meydana gelmiştir. Bu ücretli Türk birlikleri, kendi komutanlarının idaresinde Bizans ordusu içinde savaşmıştır.

Bu parçada sözü edilen askerler arasında;

- I. Peçenekler,
II. Karluk,
III. Avar

Türk topluluklarından hangileri yer alır?

- A) Yalnız I B) Yalnız II C) Yalnız III
D) I ve II E) I, II ve III

2.

YERLEŞİK TOPLUMLAR	KONARGÖÇER TOPLUMLAR
Üretim faaliyetlerinde bulunmuşlardır.	Tarımsal ürünleri yerleşik unsurlardan temin etmeye çalışmışlardır.
Savunmaya önem vermişlerdir.	?

Bu tabloda “?” ile gösterilen yere aşağıdakilerden hangisi yazılmalıdır?

- A) Saldırı gücüne sahiplerdir.
B) Mimari alanda ürünler vermişlerdir.
C) Yerleşik yaşama geçmişlerdir.
D) Yaya birlikleri oluşturmuşlardır.
E) Yeni otlaklar bulma arayışını terketmişlerdir.

3. Atı bir savaş unsuru olarak kullanan göçebe topluluklar, temel ihtiyaçlarını hayvancılık faaliyetleriyle karşılamış, belirli bir bölgeye bağlı kalmamışlardır.

Bu parçada geçen “... belirli bir bölgeye bağlı kalmamışlardır.” ifadesinden konargöçer topluluklar ile ilgili,

- I. Yaşamları boyunca otlak ve mera arayışı içinde olmuşlardır.
II. Sürüleriyle birlikte yaşamışlardır.
III. Ticaret gelirlerinin büyük bir kısmını hayvansal gıdalar oluşturmuştur.

Bilgilerinden hangileri doğrudur?

- A) Yalnız II B) Yalnız III C) I ve II
D) I ve III E) I, II ve III

4. İlk Çağ'ın önemli siyasi güçlerinden birisi de Roma İmparatorluğu'dur. Roma İmparatorluğu, en güçlü döneminde tüm Akdeniz havzasını hâkimiyeti altına almıştır.

Bu bilgilerden Roma İmparatorluğu ile ilgili olarak aşağıdakilerden hangisine ulaşılamaz?

- A) Donanma gücüne sahiptir.
B) Denizcilik alanında faaliyetlerde bulunmuştur.
C) Çeşitli kültürleri bünyesinde barındırmıştır.
D) Çeşitli dillerin konuşulduğu bir ülke olmuştur.
E) Hukuk alanındaki çalışmalarla Avrupalı devletleri etkilemiştir.

5. Roma İmparatorluğu'nda toplum, çeşitli sınıflardan oluşmuştur. Bu sınıflardan patrici ile plepler arasında mücadeleler yaşanmıştır. Bu mücadeleler sonrasında İlk Çağ'ın önemli uygarlıklarından biri olan Yunan uygarlığının yasaları temelde yer almak üzere bazı kanunlar oluşturulmuştur.

Bu parçada sözü edilen ve Roma Uygarlığı tarafından oluşturulan kanunlar topluluğu aşağıdakilerden hangisidir?

- A) Yasanamei Büzürg
B) Eski Ahit
C) Hammurabi Kanunları
D) Urgakina Kanunları
E) 12 Levha Kanunları

6. • Cengiz Yasası olarak bilinmektedir.
• Moğol İmparatorluğu döneminde oluşturulmuştur.
• Devlet işlerinin düzenlenmesini de barındırmaktadır.

Bu bilgiler aşağıdakilerden hangisiyle ilişkilendirilebilir?

- A) On Emir
B) Urgakina Kanunları
C) Hammurabi Kanunları
D) Büyük Yasa
E) 12 Levha Kanunları

7. • Roma İmparatorluğu'nun kuruluşundan MS 565 yılına kadar Roma ve egemenliği altındaki ülkelerde uygulanmıştır.
- Gününüz Avrupa ülkelerinde uygulanan hukuk sisteminin temelini oluşturmuştur.

Bu özellikler aşağıdaki kanunlardan hangisine aittir?

- A) 12 Levha Kanunları
B) Yasanamei Büzürg
C) Roma Hukuku
D) Hitit Kanunları
E) On Emir

8. Sasani ordusu da Türk ve Moğol ordusunda olduğu gibi onlu sisteme göre düzenlenmiştir.

Bu durum, aşağıdakilerden hangisiyle açıklanabilir?

- A) Toplumların birbirinden etkilendiği
B) Türklerin, dünya siyasi tarihini yönlendirdiği
C) Sasanilerin, her alanda Türkleri örnek aldığı
D) Moğolların, özgün bir yapıya sahip olduğu
E) Türklerin, Moğollardan etkilendiği

9. Bir kimse, kendisine borçlu olan kişiyi hâkim önüne götürürse ve borçlu borcunu ödeyemezse muayyen şekillere riayet ederek ona el koyar, evine götürür ve zincire vurur. Muayyen zaman içinde yine ödeyemezse öldürebilir veya köle olarak satabilir.

12 Levha Kanunları'ndan alınan bu maddedeki altı çizili kelimelerden Roma İmparatorluğu'nun sosyal hayatı ile ilgili olarak,

- I. Eşitliğe aykırı uygulamalara yer verilmiştir.
II. İnsan onuruna önem verilmiştir.
III. Toplum, birbirinden farklı sınıflara ayrılmıştır.

yargılarından hangilerine ulaşılabilir?

- A) Yalnız II B) Yalnız III C) I ve III
D) II ve III E) I, II ve III

10. "Her türlü mabedlere hürmet edilmelidir. Bütün dinlerin ruhani reisleri her türlü vergi ve mükellefiyetlerden muaf tutulmalıdır."

Cengiz Yasası'ndan alınan bu maddeden hareketle Moğollarla ilgili olarak aşağıdaki yargılardan hangisine ulaşılabilir?

- A) Çok tanrılı bir inanç sisteminin benimsendiğine
B) Din adamlarına yönetimde yer verildiğine
C) Hoşgörülü bir yönetim anlayışının benimsendiğine
D) Vergi sisteminde eşitliğin önemsendiğine
E) Gök Tanrı inancının benimsendiğine

11. Aşağıda Justinianus Kanunları'ndan ve Cengiz Yasası'ndan birer madde verilmiştir.

Justinianus Kanunları

"Başkalarının sağlığını ve hayatını kötü etkileyecek sihir ve büyü, başkasına ait ürünün kötü olması için edilen dualar ölümle cezalandırılır."

Cengiz Yasası

"Kasten yalan söyleyen, sihirbazlıkla uğraşan, casusluk yapan, kavga etmekte olan iki şahıs arasına girerek onlardan birine yardım edenlerin cezası ölümdür."

Bu maddelerde işlenen ortak konunun aşağıdakilerden hangisi olduğu söylenebilir?

- A) Kişi hakları B) Askerlik
C) Aile hukuku D) Kölelik
E) İdarecilik

12. • Otuz üç defter hâlinde düzenlendiği bilinmektedir.
- İslamiyet'i kabul eden Moğol hanedanları tarafından da uygulanmıştır.

Bu bilgiler aşağıdakilerden hangisiyle ilişkilendirilebilir?

- A) On Emir
B) Büyük Yasa
C) Justinianus Kanunları
D) Urgakina Kanunları
E) Hammurabi Kanunları

1. Eski Türk toplumunun sosyal yapısı ile aşağıda verilen sıralamalardan hangisi doğrudur?

- A) Oğuş – Urug – Budun – Boy – İl
B) Oğuş – Urug – Boy – Budun – İl
C) Oğuş – Urug – Boy – İl – Budun
D) Urug – Budun – Boy – İl – Oğuş
E) Boy – Budun – İl – Oğuş – Urug

2. Türk tarihinin geniş bir zaman dilimini kapsayan Orta Asya'nın sınırlarını belirleyen yerler arasında aşağıdakilerden hangisi gösterilemez?

- A) Hazar Denizi
B) Altay Dağları
C) Tibet Platosu
D) Kuzey Karadeniz
E) Kırgız Bozkırları

3. Türk adı aşağıdaki devletlerden hangisi ile resmî bir kimlik kazanmıştır?

- A) Asya Hunları
B) Avrupa Hunları
C) Avarlar
D) Kök Türkler
E) Uygurlar

4. • 26 boyu Türk tarihinde ilk kez tek bayrak altında toplayarak Asya Hun Devleti'ne en parlak dönemi yaşatmıştır.
• Tölesleri ve diğer Türk boylarını hakimiyeti altına alarak I. Kök Türk Devleti'ne en parlak dönemi yaşatmıştır.

Buna göre dönemde yaptıkları faaliyetlerle ön plana çıkan hükümdarlar aşağıdakilerden hangisinde bir arada verilmiştir?

Asya Hun Devleti	I. Kök Türk Devleti
A) Atilla	Mukan Kağan
B) Atilla	Kapgan Kağan
C) Mete Han	Mukan Kağan
D) Bilge Kağan	Kutluk Kağan
E) Teoman	Moyen-Çor

5. Türklerde kağanın görevleri arasında,

- İç ve dış siyaseti düzenler.
 Orduya komutanlık eder.
 Elçi gönderir ve elçileri kabul eder.

gösterilenlerin başına "✓", gösterilmeyenlerin başına "X" konulduğunda sıralama aşağıdakilerden hangisi olur?

- A)

✓
X
✓

 B)

✓
✓
✓

 C)

X
✓
✓

 D)

X
X
✓

 E)

✓
✓
X

6. Aşağıdakilerden hangisi İlk Türk Devletlerinde hükümdarlara verilen unvanlar arasında yer almaz?

- A) Şanyü
B) Han
C) İdikut
D) Yabgu
E) Şaman

TÜMLER YAYINLARI

7. Orta Asya'da Ötüken merkezli olarak kurulan Kök Türkler İpek Yolu egemenliği için;

- I. Çin,
II. Sasani,
III. Akhun

devletlerinden hangileriyle mücadele içine girmişlerdir?

- A) Yalnız I
B) Yalnız II
C) Yalnız III
D) I ve II
E) I, II ve III

8. Türk tarihinin ilk yazılı anıtları olarak Orhun Kitabeleri hakkında aşağıdakilerden hangisi söylenemez?

- A) Siyasetname özelliği taşımaktadır.
B) Türk-Çin mücadeleleri konu edinmiştir.
C) Uygurlar Dönemi hakkında bilgi vermektedir.
D) Bilge Kağan, Kültigin ve Vezir Tonyukuk adına dikilmiştir.
E) Wilhelm Thomsen tarafından çözümlenmiştir.

9. Uygurlardan Moyen Çor'dan sonra tahta geçen Böğü Kağan Mani dinini benimsemiştir.

Bu dinin etkisiyle Uygur Türklerinde aşağıdaki değişimlerden hangisinin öne çıktığı söylenemez?

- A) Yerleşik yaşama geçilmesi
B) Kalıcı mimari eserler verilmesi
C) Yazılı kültürünün gelişmesi
D) Hükümdarların Ay Tengri unvanını kullanması
E) Oğuz Kağan Destanı'nın oluşturulması

10. I. Hunlar
II. Avarlar
III. Kök Türkler

Yukarıdaki Türk topluluklarından hangileri Asya ve Avrupa'da devletler kurmuşlardır?

- A) Yalnız I B) Yalnız II C) Yalnız III
D) I ve II E) I, II ve III

11. İlk Türk devletlerinde devlet işleri Kurultay denilen mecliste görüşülüp karara bağlanırdı.

Buna göre aşağıdakilerden hangisi Kurultay'ın görevleri arasında gösterilemez?

- A) Hakanı seçmek
B) Vergileri belirlemek
C) Kanunları düzenlemek
D) Dinsel törenler yapmak
E) Savaş ve barışa karar vermek

12. İlk Türk Devletleri arasında kültürel anlamda en fazla gelişme gösteren devlet aşağıdakilerden hangisidir?

- A) Asya Hun Devleti B) Kök Türkler
C) Uygurlar D) Avarlar
E) Türgişler

13. Arap ordularının Kafkasya ve Orta Asya'ya girmesine;

- I. Hazarlar,
II. Türgişler,
III. Avarlar

devletlerinden hangilerinin engel oluşturduğu söylenebilir?

- A) Yalnız I B) Yalnız II C) Yalnız III
D) I ve II E) II ve III

14. Orta Asya Türk devletlerinde devlet işlerinin görüşülüp karara bağlandığı kurultay ile ilgili aşağıda verilen bilgilerden hangisinin doğru olduğu söylenemez?

- A) Hakan ve hatunun başkanlığında toplanır.
B) Bazı dönemlerde danışma meclisi gibi davranır.
C) Törelere belirlenmesinde etkilidir.
D) Din adamları alınan kararları onaylardı.
E) Savaş ve barışa karar verir.

15. VII – XI. yüzyıllar arasında Karadeniz ile Kafkas Dağlarının kuzeyinde ve İdil Nehri dolaylarında yaşayan ve yaşadıkları dönem "Barış Çağı" olarak anılan Türk devleti aşağıdakilerden hangisidir?

- A) Hazarlar B) Peçenekler C) Kıpçaklar
D) Türgişler E) Bulgarlar

16. Orta Asya Türk devletlerinde devleti yönetme yetkisi olan kut inancına göre;

- I. Hükümdara bağlılık artmıştır.
II. Taht kavgaları yaşanmıştır.
III. Laik devlet anlayışı gelişmiştir.

durumlarından hangilerinin ortaya çıktığı söylenebilir?

- A) Yalnız I B) Yalnız II C) Yalnız III
D) I ve II E) I, II ve III

Türklerde Coğrafya ile Oluşan Yaşam Tarzı

Kavimler Göçü - İlk Türk Devletleri ve Kanunları

1. Tarımın sınırlı alanlarda yapıldığı buna karşın otlakların geniş yer tuttuğu Orta Asya'da, Türk boyları zorunlu olarak geçimlerini hayvancılık üzerine kurmuşlardır.

Buna göre aşağıdakilerden hangisi Türklerin sosyal yaşamında hayvancılık faaliyetlerine bağlı olarak ortaya çıkmamıştır?

- A) Konargöçer yaşam tarzının benimsenmesi
B) Hayvansal gıdaların daha fazla tüketilmesi
C) Dış satım ürünlerinin çoğunluğunu hayvansal ürünlerin oluşturması
D) Çinlilere canlı hayvan satılması
E) Takvim çalışmalarında bulunulması

2.



NOT: Orta Asya Türk devlet ve toplulukları yazıyı geç kullanmıştır.

Yalnızca Türklerle ilgili not kısmında verilen bilgiye bağlı kalınarak aşağıdakilerden hangisinin haritada gösterilen durumun sonuçları arasında olduğu söylenebilir?

- A) Türk tarihinin incelenmesi zorlaşmıştır.
B) Çeşitli kültürlerle karşılaşmıştır.
C) Farklı coğrafyalarda yeni devletler kurulmuştur.
D) Türk kültürünün etkinlik alanı genişlemiştir.
E) Onluk sistem birçok devlet tarafından öğrenilmiştir.

3. Orta Asya'dan dünyanın farklı bölgelerine yapılan Türk göçlerinin nedenlerinden bazıları şunlardır:

- I. Özgür yaşama isteği
II. Türk boyları arasındaki anlaşmazlıklar
III. Kuraklık

Bu nedenlerin siyasi, iklim ve bağımsızlık ile olan ilişkisi aşağıdakilerden hangisinde doğru olarak verilmiştir?

	Siyasi	İklim	Bağımsızlık
A)	I	II	III
B)	I	III	II
C)	II	I	III
D)	II	III	I
E)	III	II	I

4. Türklerin yaşadığı coğrafyanın bitki örtüsü bozkırdır. Bu bozkır, Kuzey Sibirya ormanına kadar uzanır, bazı yerlerde yerini başka bitki örtülerine bırakır ve Gobi, Taklamakan gibi ya da kırmızı kumlu Kızılkuş, beyaz kumlu Akkuş, kara kumlu Karakum gibi renkli, ıssız çöllere dönüşür.

Buna göre Orta Asya coğrafyasının;

- I. tarım,
II. hayvancılık,
III. ticaret

ekonomik faaliyetlerinden hangilerini daha fazla engellediği söylenebilir?

- A) Yalnız I B) I ve II C) I ve III
D) II ve III E) I, II ve III

5. • Kök Türk Hakanlığının batıdaki kalabalık boylarından biri olarak İli Nehri dolaylarında yaşamıştır.
• Emevilerle mücadele ederek Arapların, Orta Asya'da hâkimiyet kurmasını engellemiştir.
• Kendi adlarına para bastırmışlardır.

Bu özellikler aşağıdaki Türk devletlerinden-topluluklarından hangisine aittir?

- A) Karluklar B) Kırgızlar
C) Türgişler D) Sabarlar
E) Bulgarlar

6. Üzengi; eyerin iki yanında asılı bulunan ve ata binildiğinde ayakların basılmasına yarayan, at üzerinde dengeli durulmasını sağlayan demirden alettir.

Buna göre Türk ordusunun askerî teşkilatı ile ilgili olarak aşağıdaki çıkarımlardan hangisine ulaşılabılır?

- A) Ordu, süvari birliklerinden oluşmuştur.
B) Ordu-millet anlayışı benimsenmiştir.
C) Savaşlarda vur-kaç taktiği kullanılmıştır.
D) Ordu, genellikle Türklerden oluşmuştur.
E) Orduda istisnalar hariç devşirme sistemine yer verilmez.

7. Hayvancılık Hunların temel geçim kaynakları arasında yer almıştır. (I) Ayrıca tarım, avcılık, balıkçılık, madencilik, dericilik ve ticaretle uğraşmışlardır. (II) Yağma ve ganimet de önemli bir kaynaktır. (III) Madencilik konusunda demiri, altını ve gümüşü çıkarıp işleyebilen Hunlar; başta Çin olmak üzere yerleşik toplumlara kürk, at, et, deri, silah satmışlar, karşılığında ise ipek, çay ve tahıl ürünleri almışlardır. (IV) Güçlü oldukları dönemlerde ise İpek Yolu'nun uluslararası ticaretine katılmışlar ya da bu yolu kontrol altına almışlardır. (V)

Bu parça ile ilgili aşağıdaki yargılardan hangisine ulaşılamaz?

- A) II. cümlede Hunların geçim kaynaklarının farklılığına değinilmiştir.
B) III. cümleden Hunların savaşçı topluluklar olduğuna ulaşılabılır.
C) III. cümlede Hunların, Çin'i vergiye bağladığını ulaşılabılır.
D) IV. cümlede Türklerin, ateşi, üretim aşamasına kullandığı bilgisine ulaşılabılır.
E) V. cümleden, Hunların, ekonomik gelirlerini artırmak istedikleri yargısına ulaşılabılır.

8.



Yukarıdaki haritada Hunların Avrupa'ya doğru ilerleyişi ve Roma İmparatorluğu'nun sınırları gösterilmiştir.



Yukarıdaki II. Haritada ise Hunların neden olduğu Kavimler Göçü sonrası Avrupa haritası verilmiştir.

Bu haritalardan yararlanarak,

- I. Avrupa'nın siyasi yapısı değişmiştir.
II. Türk kültürünün Avrupa'da yayılmasına ortam hazırlanmıştır.
III. Türk toplulukları özbenliklerini yitirmiştir.

yargılarından hangilerine ulaşamaz?

- A) Yalnız I B) Yalnız II C) Yalnız III
D) I ve II E) I ve III

9. • Türklerle özgü bir savaş taktiğidir.
• Türk yurdunun eski adıyla anılmaktadır.

Bu bilgiler aşağıdaki kavramlardan hangisiyle ilişkilendirilebilir?

- A) Gök Börü B) Asena
C) Turan D) Hun
E) Alp

1. İslam öncesi dönemlerde Arap Yarımadası'nda küçük küçük devletçikler olduğu için siyasi birlikten söz edilemez.

Bu devletçikler arasında aşağıdakilerden hangisi gösterilemez?

- A) Main B) Seba C) Gassani
D) Habeşistan E) Tedmur

2. İslam öncesi dönemde güçsüz kişileri güçlülerin baskısından korumak ve adaleti sağlamak için kurulan teşkilat aşağıdakilerden hangisidir?

- A) Hilful-fudül B) Darun Nedve
C) Divan-ı Mezalim D) Divan-ı Cund
E) Mescid-i Nebevî

3. I. Müşriklerin savunmaya Müslümanların saldırıya geçmesi
II. Mekke'nin fethedilmesi
III. Müşriklerin Müslümanları hukuken tanınması
Bu gelişmelerin ortaya çıkış sırası aşağıdakilerden hangisinde doğru olarak sıralanmıştır?

- A) I, II, III B) I, III, II C) II, I, III
D) III, II, I E) II, III, I

4. • İslam savaş hukukunun temelleri ortaya çıkmıştır.
• İslam'ın eğitime verdiği önem anlaşılmıştır.
Bazı sonuçları verilen savaş aşağıdakilerden hangisidir?

- A) Bedir B) Uhud C) Hendek
D) Mute E) Tebük

5. **Hz. Osman döneminde;**

- I. İslam dünyasında ilk karışıklıkların yaşanması,
II. İslam donanmasının kurulması,
III. Kur'an-ı Kerim'in kitap hâline getirilmesi

gelişmelerinden hangilerinin ortaya çıktığı söylenebilir?

- A) Yalnız I B) Yalnız II C) I ve II
D) I ve III E) II ve III

6. Aysun Öğretmen tahtaya "Ridde Hareketleri, Ecnâdeyn Savaşı, Yalancı Peygamberler" gibi ifadeler yazmıştır.

Bu ifadelerle göre Aysun Öğretmen'in aşağıdaki halifelerden hangisi hakkında anlatım yapacağı söylenebilir?

- A) Hz. Ali B) Hz. Ömer
C) Muaviye D) Hz. Ebubekir
E) Hz. Osman

7. Hz. Ömer döneminde ülke sınırlarının gelişmesine bağlı olarak devlet teşkilatlanması alanında önemli çalışmalar yapılmıştır.

Bu çalışmalar arasında aşağıdakilerden hangisi gösterilemez?

- A) İktisad sisteminin uygulanması
B) Yeni yönetim birimlerinin kurulması
C) İlk düzenli ordu ve ordugahların kurulması
D) Divan teşkilatının oluşturulması
E) Vezir atamalarının yapılması